

時計をみて、時間をこたえましょう。

1 時計があらわしている 時と分を 答えましょう。

(1)



9 時 25 分

(2)



8 時 55 分

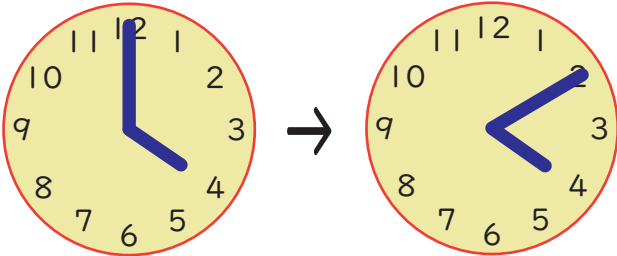
(3)



3 時 45 分

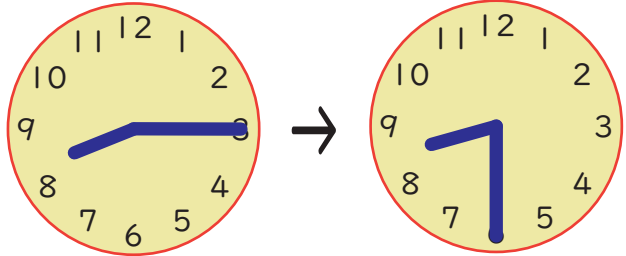
2 時計のはりがつぎのようにへんかしたとき、時間は何分たちましたか。

(1)



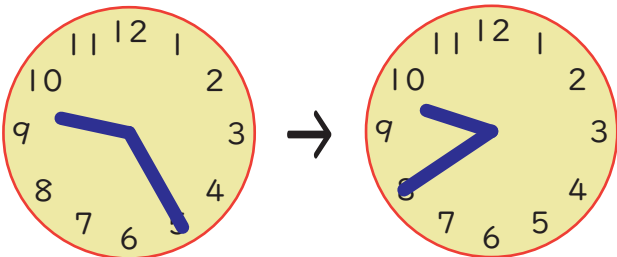
10 分

(2)



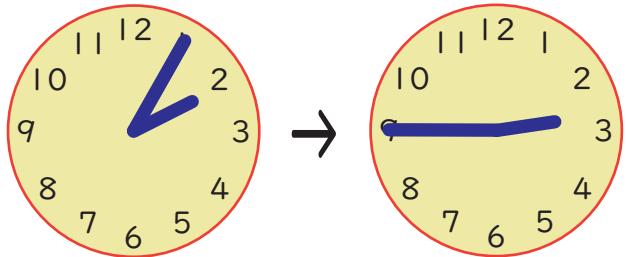
15 分

(1)



15 分

(2)



40 分

