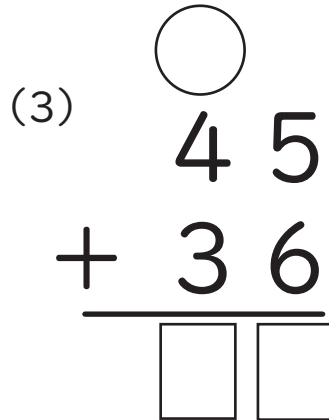
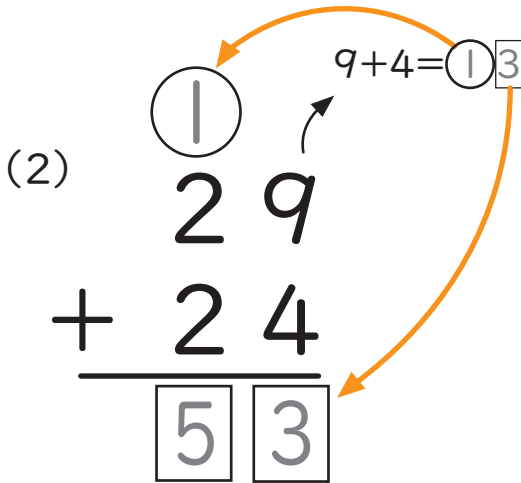
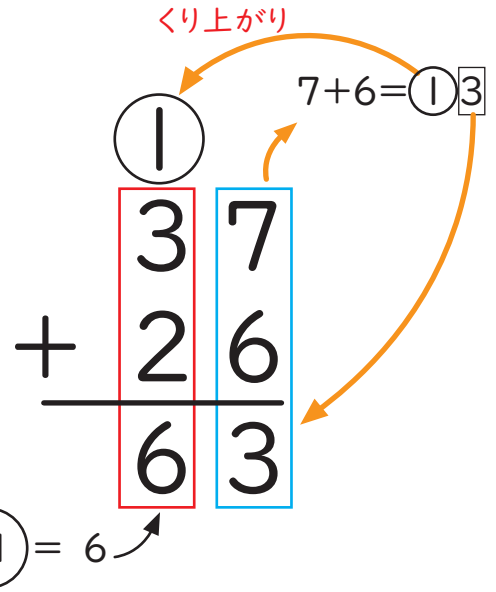


ひっ算をつかって、たし算のもんだいをこたえましょう。

1 たしざんのもんだいをときましょう。

(1)  $37 + 26 = \square$

くり上がりのあるたしざんはむずかしいので  
ひっ算をつかってけいさんしましょう。



2 2けたのたしざんのひっ算をしましょう。

(1)

$$\begin{array}{r} 18 \\ + 33 \\ \hline \square \square \end{array}$$

(2)

$$\begin{array}{r} 41 \\ + 37 \\ \hline \square \square \end{array}$$

(3)

$$\begin{array}{r} 23 \\ + 59 \\ \hline \square \square \end{array}$$

