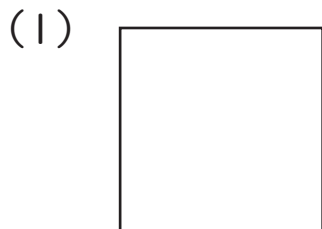


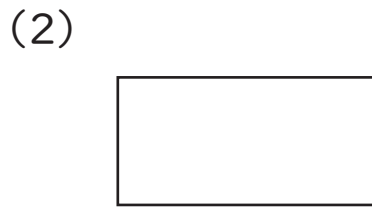


三角形、四角形についてのもんだいにこたえましょう。

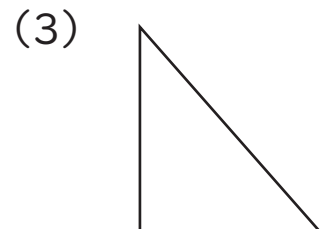
1 つぎの図形の名前を下のはこからえらんで、それぞれ答えましょう。



(正方形)



(長方形)



(直角三角形)

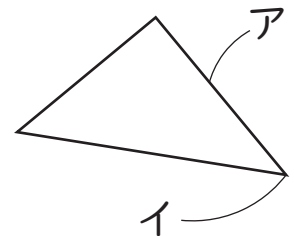
ちよっかく
直角三角形

せいほうけい
正方形

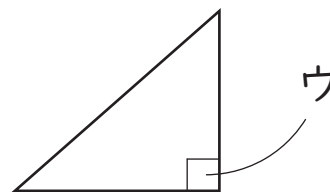
ちようほうけい
長方形

2 □の中に入る言葉を、下のはこからえらんで入れましょう。

(1) 右の三角形の ア のところを **辺** といい、
イ のところを **角** といいます。



(2) 右の三角形の ウ の角は **直角** になっています。



(3) 正方形は、辺の長さがすべて **同じ** です。

同じ へん 直角 かく角

