




1 天気と気温 (A)

1 次の問いに答えましょう。

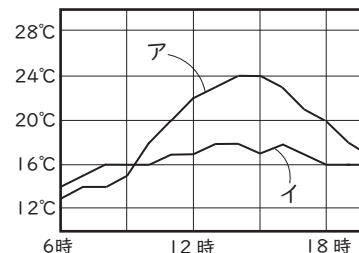
(1) 気温をはかるには、温度計に (①) が直接当たらないようにし、地面から 1.2m~1.5m の (②) のいいところではかります。①、② に当てはまる言葉を下から選び、答えましょう。

(水 日光 手 空気 風通し)

(2) 気温をはかるのに使われる、右の箱を 何といいますか。



(3) 右のグラフの ア、イ は、6月のある晴れの日と、雨の日の気温のグラフです。雨の日は ア、イ どちらですか。記号で答え、理由も答えましょう。



(4) 1日の気温は、何時ごろにいちばん高くなることが多いですか。

下から選んで答えましょう。

(午前8~10時 午前10~12時 午後1~3時 午後4~6時)

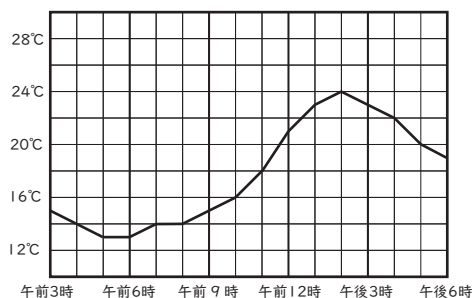
(1)	①		②		(2)	
(3)	記号		理由			
(4)						

2 右のグラフは、午前3時から午後6時までの気温を調べたものです。次の問いに答えましょう。

(1) 気温がいちばん高いのは、何時ですか。

(2) 1時間での気温の変化がいちばん大きいのは、何時から何時ですか。

(3) 気温がいちばん低いときと、いちばん高いときでは気温は何°Cの差がありますか。



(1)		(2)		(3)	
-----	--	-----	--	-----	--