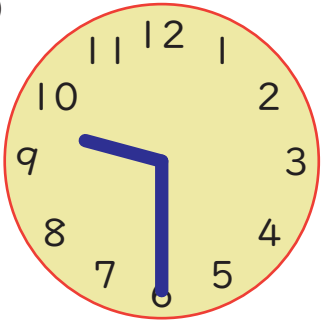


とけいから じかんを よんでみましょう。

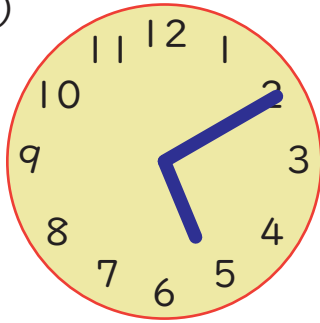
1 とけいが あらわしている じこくを こたえましょう。

(1)



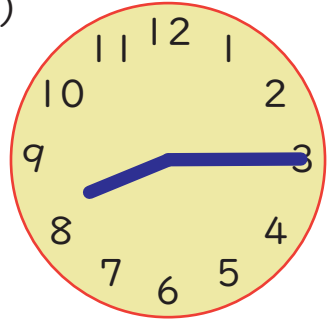
じ ぶん

(2)



じ ぶん

(3)



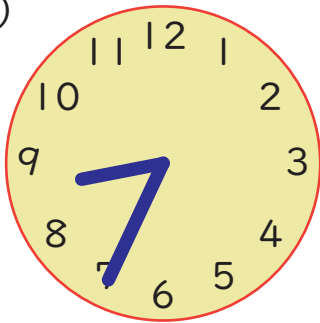
じ ぶん

(4)



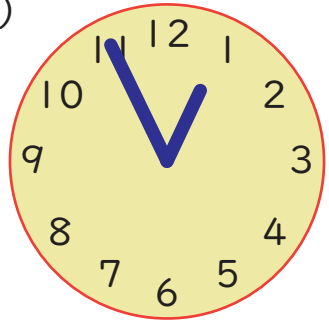
じ ぶん

(5)



じ ぶん


(6)




じ ぶん

2 つぎの じこくの ときの、とけいのはりを かきましょう。

(1) 7じ 20ぶん



(2) 4じ 45ぶん



(3) 11じ 25ぶん

