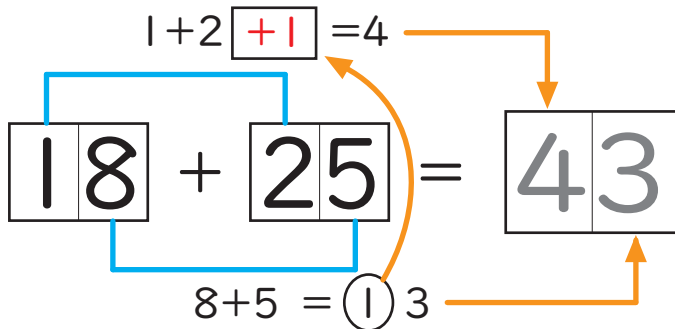


ひっ算をつかわずに、2けたのたし算をけいさんしましょう。

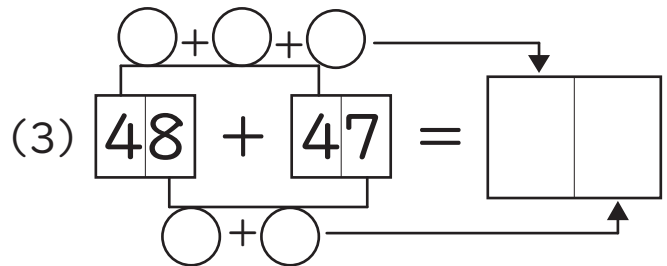
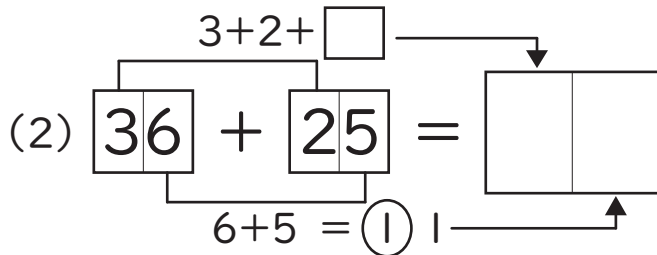
1 ひっ算をつかわず たし算を してみましょう。

(1) $18 + 25 =$

2けたのたし算で、一のくらのたし算が10より大きいとき、



くり上がり が おこり、
10のくらゐに、1をくわえます。



2 2けたの たし算の もんだいを ときましょう。

(1) $15 + 18 =$

(2) $22 + 19 =$

(3) $35 + 25 =$

(4) $47 + 18 =$

(5) $56 + 34 =$

(6) $48 + 43 =$

