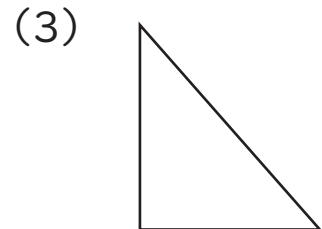
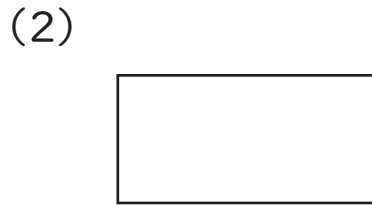
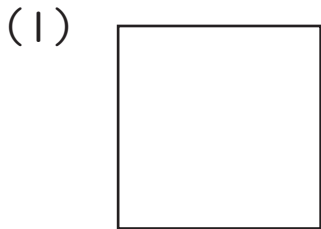




三角形、四角形についてのもんだいにこたえましょう。

1 つぎの図形の名前を下の^{ずけい}はこからえらんで、それぞれ^{なまえ}答えましょう。



() () ()

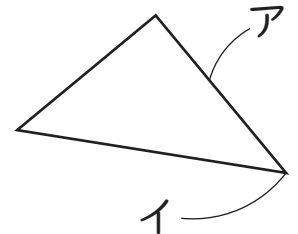
^{ちよっかく}
直角三角形

^{せいほうけい}
正方形

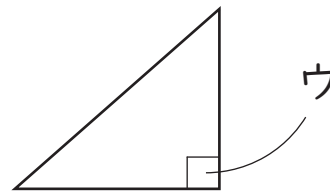
^{ちようほうけい}
長方形

2 □の中に入る^{ことば}言葉を、下の^{ことば}はこからえらんで入れましょう。

(1) 右の三角形の ア のところを といい、
イ のところを といいます。



(2) 右の三角形の ウ の角は になっています。



(3) 正方形は、辺の長さがすべて です。

同じ ^{へん}辺 直角 ^{かく}角

