




こたえが 10までの たしざんに こたえましょう。

1 つぎの もんだいに こたえましょう。

(1) りんご のかずと、みかんの かずを たしましょう。



りんごの かず

3こ

みかんの かず


4こ

りんご

みかん

$$\boxed{3} + \boxed{4} = \boxed{7}$$

(2) りんごの かずと、
ももの かずを たしましょう。





りんご

もも

$$\boxed{5} + \boxed{2} = \boxed{7}$$

(3) ももの かずと、
みかんの かずを たしましょう。



もも

みかん

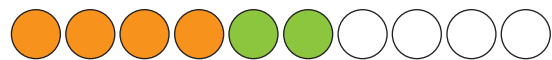
$$\boxed{4} + \boxed{5} = \boxed{9}$$

2 しろい○をつかって、たしざんの もんだいを ときましょう。


(1) $2 + 2 = \boxed{4}$



(2) $4 + 2 = \boxed{6}$



(3) $6 + 3 = \boxed{9}$



(4) $2 + 7 = \boxed{9}$

