




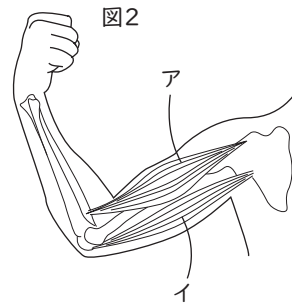
0 4年生の復習 (A)

1 次の問いに答えましょう。

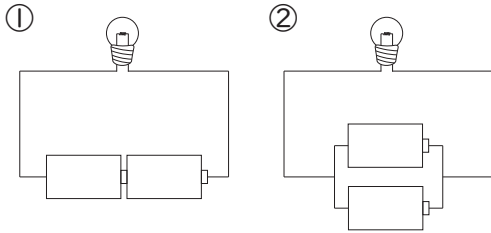
(1) 気温をはかるのに使われる、図1の箱を 何といますか。



(2) うでを曲げるとき、図2の ア、イ は
どちらが かたくなっていますか。



(3) 下の図の、①、② のつなぎ方を、それぞれ何といますか。



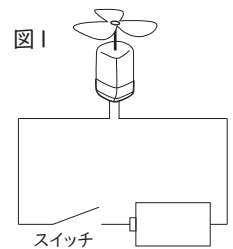
(4) 水が水じょう気になることを、何といますか。

(5) 水を冷やし (A)℃になると、こおり始める。また、水をあたたため、(B)℃になると、あわが始め
しばらくして熱するのをやめると、水がへっていた。A、Bに当てはまる数字を答えましょう。

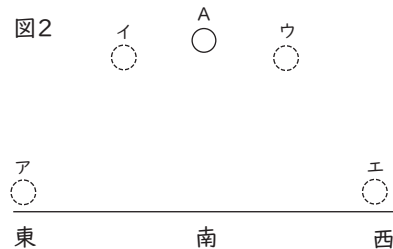
(1)	百葉箱	(2)	ア		
(3) ①	直列つなぎ	②	並列つなぎ	(4)	じょう発
(5) A	0	B	100		

2 次の問いに答えましょう。

(1) 右の図1のようにモーターと電池をつなぎ、スイッチを入れると、モーターは
回転しました。電池の向きを逆にすると、モーターはどのように回転しますか。



(2) ある日の午前0時に、右の図2の A の位置に
満月が見えました。2 時間後、月のある位置は
ア~エ のどの位置ですか。また、このときの
月の形は、満月から変化していますか。



(1)	モーターの回転の向きが逆になる。		
(2) 位置	ウ	月の形	変わらない