

時計をみて、時間をこたえましょう。

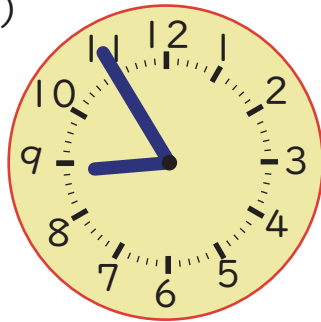
1 時計があらわしている 時と分を 答えましょう。

(1)



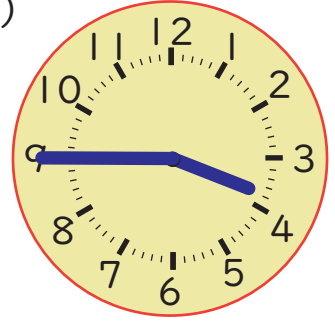
時  分

(2)



時  分

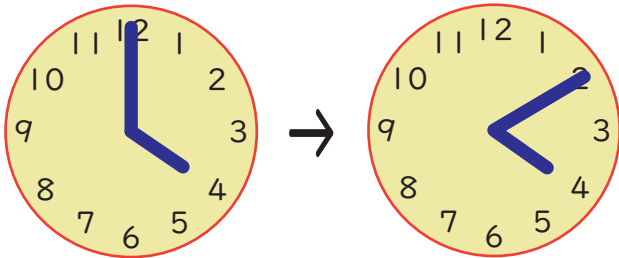
(3)



時  分

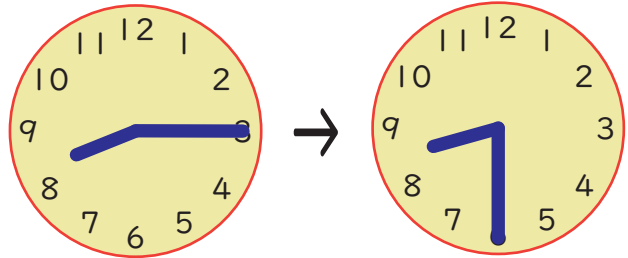
2 時計のはりがつぎのようにへんかしたとき、時間は何分たちましたか。

(1)



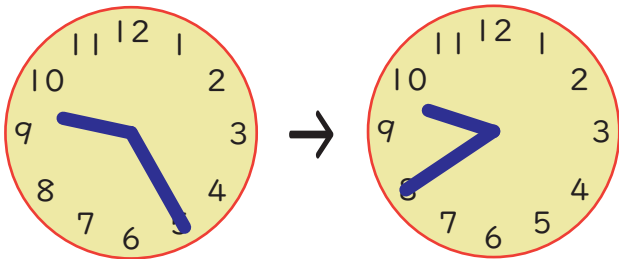
分

(2)



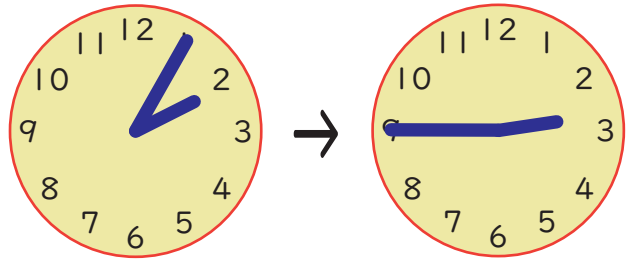
分

(1)



分

(2)



分

