


こたえが 10までの たしざんに こたえましょう。

1 つぎの もんだいに こたえましょう。

(1) りんご のかずと、みかんの かずを たしましょう。




りんごのかず

みかんの かず



$$\begin{array}{c} \text{りんご} \\ \square \end{array} + \begin{array}{c} \text{みかん} \\ \square \end{array} = \square$$

(2) りんごのかずと、ももの かずを たしましょう。



$$\begin{array}{c} \text{りんご} \\ \square \end{array} + \begin{array}{c} \text{もも} \\ \square \end{array} = \square$$

(3) ももの かずと、みかんの かずを たしましょう。



$$\begin{array}{c} \text{もも} \\ \square \end{array} + \begin{array}{c} \text{みかん} \\ \square \end{array} = \square$$

2 しろい○をつかって、たしざんの もんだいを ときましょう。

(1) $2 + 2 = \square$



(2) $4 + 2 = \square$



(3) $6 + 3 = \square$



(4) $2 + 7 = \square$

