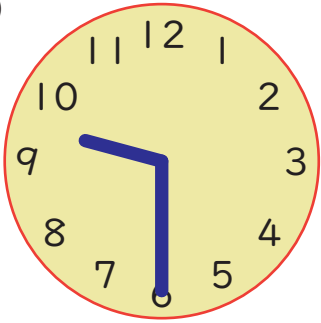


とけいから じかんを よんでみましょう。

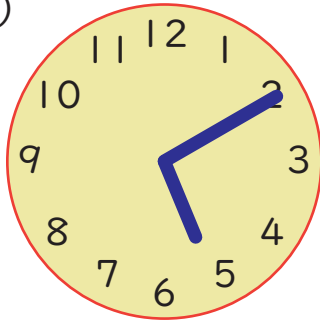
1 とけいが あらわしている じこくを こたえましょう。

(1)



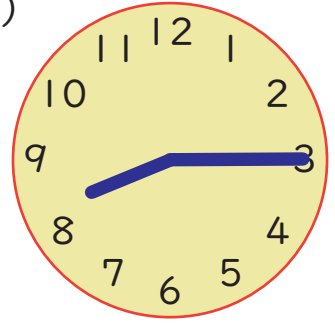
9 じ 30 ふん

(2)



5 じ 10 ふん

(3)



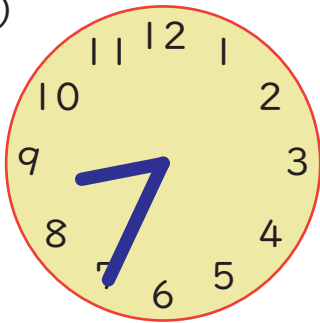
8 じ 15 ふん

(4)



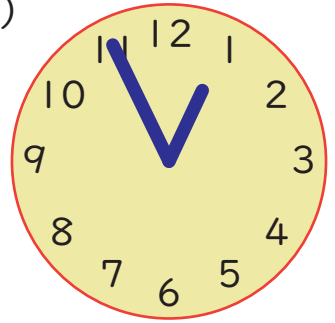
3 じ 50 ふん

(5)



8 じ 35 ふん

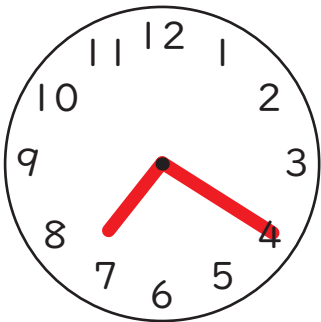
(6)



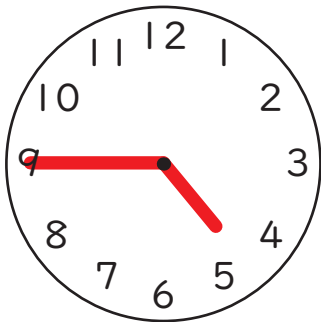
12 じ 55 ふん

2 つぎの じこくの ときの、とけいのはりを かきましょう。

(1) 7じ 20ふん



(2) 4じ 45ふん



(3) 11じ 25ふん



こたえのページ

