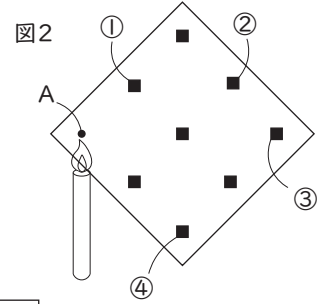
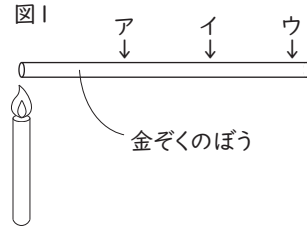




7 ものあたたまり方 (A)

1 次の問いに答えましょう。

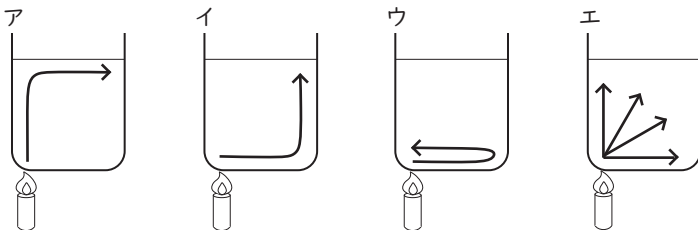
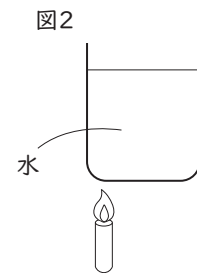
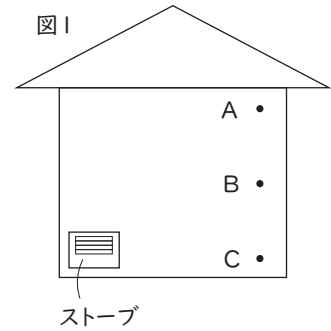
- (1) 温度の変化を調べるのに使う () は、温度が一定まで上がるととける。() に当てはまる言葉を答えましょう。
- (2) (1) を、図1の金ぞくのぼうにぬり、左側からろうそくでぼうをあたためます。図1の ア~ウ を、とけるのがはやい順番にならべましょう。
- (3) 温度が変わると色が変わるテープを、何といいますか。
- (4) (3) のテープを、図2のように8か所にはり、点Aからろうそくであたためた。①~④のテープを、色が変わる順番にならべましょう。



(1)		(2)	→	→	
(3)		(4)	→	→	→

2 次の問いに答えましょう。

- (1) あたたかい空気は、上がっていきますか、下がっていきますか。
- (2) 図1のように、部屋の中でストーブをつけ、しばらくたった後 A~Cの3か所で温度をはかると、15℃、18℃、20℃ でした。A~Cの温度を、それぞれ 15℃、18℃、20℃ から選んで答えましょう。
- (3) 図2のように 水をあたためたとき、あたためられた水の動きは、下の ア~エ のどれですか。記号で答えましょう。



(1)		(2)	A	
B		C		(3)